

この問題用紙は実際の試験で配布された用紙と問題の配置が異なります。
見開き左ページから右ページの順番に出題されており、下スクロールで次のページへと続きます。

長篠・設楽原歴史検定 (初級編)

試験日：令和5年8月27日

注意事項

1問2点方式
全50問(満100点)
試験時間：60分間

1 出題範囲は「Try History～長篠・設楽原～検定準拠問題集(初級編)」から出題される長篠・設楽原に関する問題(地理・地域・出来事・人物)となっており、順番はランダムです。

問1 長篠・設楽原の戦いで勝利したのは次のうちのどの軍でしょうか。

- ①織田・徳川連合軍 ②武田軍 ③今川軍 ④上杉軍

問2 この戦いで敗北した武将は次のうち誰でしょうか。

- ①奥平信昌 ②浅井長政 ③石田三成 ④武田勝頼

問3 現在、長篠城跡や設楽原がある地域の名前を「新城」と言いますが、この地域は昔「A」国と呼ばれていました。「A」国は岡崎周辺で力を持ち始めていた松平家が少しずつ勢力を伸ばし始めていましたが、「A」国の周辺には「B」国の今川家や「C」国の武田家、「D」国の織田家など戦国大名たちの勢力争いの狭間に立たされ、いつも狙われている地域でもありました。A～Dに入る組み合わせのうち正しいものはどれでしょうか。

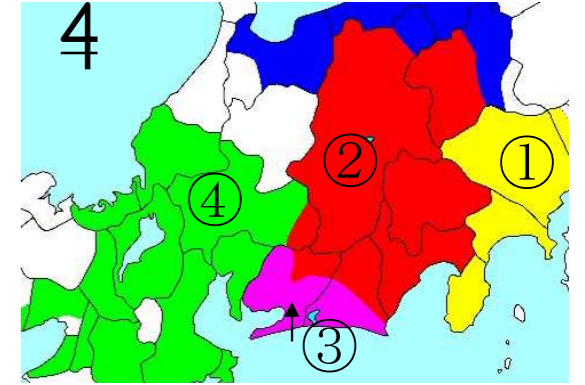
- ① A：甲斐 B：三河 C：遠江 D：尾張
② A：三河 B：尾張 C：甲斐 D：遠江
③ A：尾張 B：遠江 C：三河 D：甲斐
④ A：三河 B：遠江 C：甲斐 D：尾張

松平家は後に「徳川」に改姓しているよ！



問4 この戦い当時、武田勝頼が支配していた領地は次のうち何色のエリアになるでしょうか。

- ①黄色
②赤色
③桃色
④緑色



問5 長篠城は、二本の大きな川が「Y」の字に合流する断崖上にあります。その川の名前は宇連川と、あともう一つは次のうちどれでしょうか。

- ①矢作川 ②連吾川 ③豊川 ④乙川

問6 次の文章のうち、正しいものを選びなさい。

- ①長篠・設楽原の戦い当時、徳川家康は長篠城主であった。しかし、この戦いで徳川軍は敗北したため長篠城は廃城となった
②長篠・設楽原の戦いで勝利したのは武田軍であるが、武田信玄が亡くなると、武田家の勢力は次第に衰退していった。
③長篠城は永正5年(1508)に建設され、長篠・設楽原の戦いが起こったのは天正3年(1575)である。しかし、この戦いの1年後に廃城となった。
④長篠・設楽原の戦いで勝利したのは、織田・徳川連合軍である。この戦いの後に、織田信長の長女は長篠城主に嫁いだ。

問7 長篠城の攻防戦のとき、武田軍はどこに本陣を置いていたでしょうか。

- ①大通寺 ②永平寺 ③本能寺 ④医王寺

問8 この戦いで武田軍が築いた砦は5つありました。北から姥ヶ懐砦、君ヶ臥床砦、中山砦、久間山砦、あと一つはどれでしょうか。

- ①鷲ヶ巢山砦 ②鳶ヶ巢山砦 ③雁峰山砦 ④鳳来寺山砦

問9 長篠城を監視していた武田軍の5砦に奇襲攻撃を仕掛けたことによって、武田軍の優勢が揺らぐ大きなきっかけとなりました。この攻撃の先陣を切っていたのは誰でしょうか。

- ①酒井忠次 ②本多忠勝 ③榊原康政 ④井伊直政

問 1 0 徳川氏の重臣、酒井忠次の居城はどこでしょうか。

- ①吉田城 ②長篠城 ③新城城 ④上ノ郷城

問 1 1 この戦いの時、長篠城の攻防から設楽原へと布陣することが決定した時、武田軍の馬場信春は同志の武将である内藤昌秀、山県昌景、土屋昌次らを自分の陣所である「A」に集め、そこで水盃を交わしたと伝えられています。

「A」の場所は次のうちどれでしょうか。

※水盃とは、永遠の別れを惜しんで、盃に汲んだ水を飲み交わすこと。

- ①医王寺 ②新昌寺 ③大通寺 ④勝楽寺

問 1 2 この戦いで落城が目前に迫っていた長篠城では援軍が本当に来るのか確かめるために使者を派遣することになりました。その使者を担い、長篠城を脱出した人物は誰でしょうか。

- ①奥平信昌 ②鳥居強右衛門 ③阿月 ④鳥居伊右衛門

問 1 3 長篠城から派遣された使者はどこに向かったのでしょうか。

- ①浜松城 ②吉田城 ③清洲城 ④岡崎城

問 1 4 その使者は、長篠城を無事に脱出をしたことを仲間に伝えるために、ある山で狼煙のろしを上げました。それはどこでしょうか。

- ①鳶ヶ巣山 ②本宮山 ③鳳来寺山 ④雁峰山

問 1 5 長篠城の使者として城を抜け出したのは1人だけではありませんでした。あと一人は誰でしょうか。

- ①鈴木金七郎 ②落合左平次 ③豊田藤助 ④武田信実

問 1 6 長篠城の使者が長篠城に向かって発したとされる言葉は次のうちどれでしょうか。

- ①開城せよ ②援軍は来る ③城に火を放て ④退避せよ

問 1 7 この戦いで、織田信長は次のうちどこに本陣を置いていたのでしょうか。

- ①医王寺山 ②弾正山 ③天王山 ④茶臼山

問 1 8 織田・徳川連合軍が設楽原に布陣したのはいつでしょうか。

- ①5月1日 ②5月14日 ③5月18日 ④5月21日

長篠城での攻防戦は10日以上も続いたんだ。
長篠城の使者が城を脱出して、その4日後に
援軍は設楽原に到着したんだって！



問 1 9 連合軍が武田の騎馬軍団に対抗するため、設楽原に築いたものは何でしょうか。

- ①櫓（やぐら） ②石垣 ③柵 ④堀

問 2 0 設楽原の決戦で使われた連合軍の火縄銃の数はどのくらいでしょうか。

- ①2,000挺 ②3,000挺 ③3,800挺 ④5,000挺

問 2 1 設楽原で見つかった鉄砲玉は何でできているものが一番多いでしょうか。

- ①鉄 ②胴 ③鉛 ④石

問 2 2 武田勝頼は長篠城の攻防戦の時、「A」に本陣を置いていました。その後に「B」、設楽原決戦時には「C」に移し、織田・徳川連合軍が待ち構える設楽原へと進軍していくのでした。A～Cに入る正しい場所を選びなさい。

- ① A 医王寺 B 清井田 C 才ノ神 ② A 大通寺 B 医王寺 C 才ノ神
③ A 医王寺 B 大通寺 C 清井田 ④ A 清井田 B 医王寺 C 大通寺

問 2 3 鳥居強右衛門の出身地はどこでしょうか。

- ①旧作手村 ②新城市 ③豊川市 ④田原市

問 2 4 鳥居強右衛門のお墓は新城市内に 2ヶ所あります。1つは旧作手村の甘泉寺ですが、もうひとつはどこにあるでしょうか。

- ①長篠の医王寺 ②長篠の大通寺 ③川路の勝楽寺 ④有海の新昌寺

問 2 5 仲間のために奔走した鳥居強右衛門は、最期には磔刑に処されてしまいますが、その姿に感銘を受けたとある武将がおり、その武将は鳥居強右衛門の磔刑の様子を自分の旗印として描かせています。それは誰でしょうか。

- ①本多平八郎 ②木下藤吉郎 ③蒲生忠三郎 ④落合左平次

問 2 6 織田信長・豊臣秀吉・徳川家康の3人は後に天下人として、「三英傑」と呼ばれています。この三英傑が揃い、一緒に戦ったのは2回しかありません。1つは長篠・設楽原の戦い、あともう一つはどれでしょうか。

- ①桶狭間の戦い（1560）
②姉川の戦い（1570）
③三方原の戦い（1573）
④関ヶ原の戦い（1600）

長篠・設楽原の戦いよりも前だよ。



問 2 7 火縄銃の射程距離はどのくらい離れているでしょうか。

- ①5 m ②30 m ③50 m ④200 m

問 2 8 織田信長の家臣で、この戦いに参加しなかったのは誰でしょうか。

- ①山内一豊 ②明智光秀 ③羽柴秀吉 ④前田利家

問 2 9 徳川四天王のうち、この戦いに参加しなかったのは誰でしょうか。

- ①酒井忠次 ②本多忠勝 ③榊原康政 ④井伊直政

問 3 0 武田四天王のうち、この戦いに参加しなかったのは誰でしょうか。

- ①馬場信春 ②内藤昌秀 ③高坂昌信 ④山県昌景

問 3 1 この戦い当時、徳川家康の年齢は何歳だったでしょうか。

- ①20歳 ②26歳 ③34歳 ④42歳

問 3 2 織田信長と同じ年に亡くなっている武将は誰でしょうか。

- ①山県昌景 ②土屋昌次 ③穴山梅雪（信君） ④武田勝頼

問 3 3 家康がまだ戦国大名として十分な力を持っていなかった頃、奥三河の国衆で武田家の家臣であった奥平氏を徳川方に引き入れるため、家康は奥平家の長男「A」と自分の長女「B」を結婚させる約束を交わしました。奥平家は武田家の家臣から徳川家の家臣となることを決め、長篠城を任せられたとき、決死の覚悟で守り抜きました。「A」と「B」は親が決めた結婚でしたが、5人の子どもに恵まれ、幸せな家庭を築いたと伝えられています。AとBはそれぞれ誰でしょうか。

- ①A：奥平信昌 B：鶴姫 ②A：奥平信昌 B：亀姫
③A：奥平貞能 B：鶴姫 ④A：奥平貞能 B：亀姫

問 3 4 「ヤーレモッセナンマイダー」と唱える長篠・設楽原の戦いの戦没者を供養するための伝統行事「A」は、毎年8月15日のお盆の夜に設楽原歴史資料館の近くの信玄塚で行われます。伝統行事「A」とは何でしょうか。

- ①放下おどり ②火おんどり ③はねこみ踊り ④乗本万灯

問 3 5 この戦いが行われた設楽原の連吾川は小さな川ですが、その両側には水田が広がっていました。設楽原の水田はとてもぬかるみが強く、一度水田に足を踏み入れると、深いところでは腰の辺りまで沈み込んでしまったそうです。そこで、織田・徳川連合軍は戦国最強と謳われた武田軍となれば、水田を踏み越えてくるかもしれないと考え、「A」を築くことにしました。

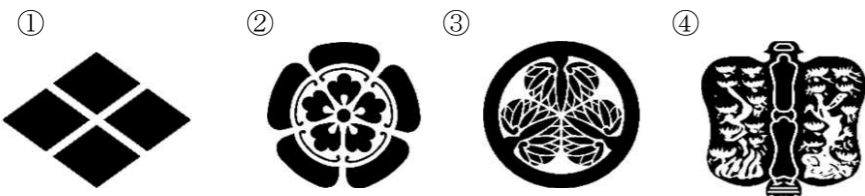
雁峰山の麓からおよそ「B」kmにわたって築いたとされている「A」は火縄銃を撃つときにも台として使うこともできたと言われ、連合軍の勝利に大きく貢献しました。AとBに当てはまる正しいものを選びなさい。

- ①A：馬防柵 B：2 ②A：馬防柵 B：10
③A：石垣 B：2 ④A：石垣 B：10

問 3 6 作手の亀山城に拠点を置いた奥平氏、長篠城に拠点を置いた菅沼氏、田峯城に拠点を置いた菅沼氏の3つの一族のことをなんというのでしょうか？

- ①山家三方衆 ②井伊谷三人衆 ③雑賀衆 ④穴太衆

問 3 7 奥平氏の家紋はどれでしょうか？



問 3 8 徳川四天王のうち、年齢順に正しいものはどれでしょうか。
左から年長者順に並べられた正しいものを選びなさい。※(同年代の場合は・で示す)

- ①本多忠勝→酒井忠次→榊原康政・井伊直政
②本多忠勝・榊原康政→酒井忠次→井伊直政
③酒井忠次→本多忠勝・榊原康政→井伊直政
④酒井忠次→本多忠勝→井伊直政→榊原康政

問 3 9 三英傑のうち、年齢順に正しいものはどれでしょうか。
左から年長者順に並べられた正しいものを選びなさい。※(同年代の場合は・で示す)

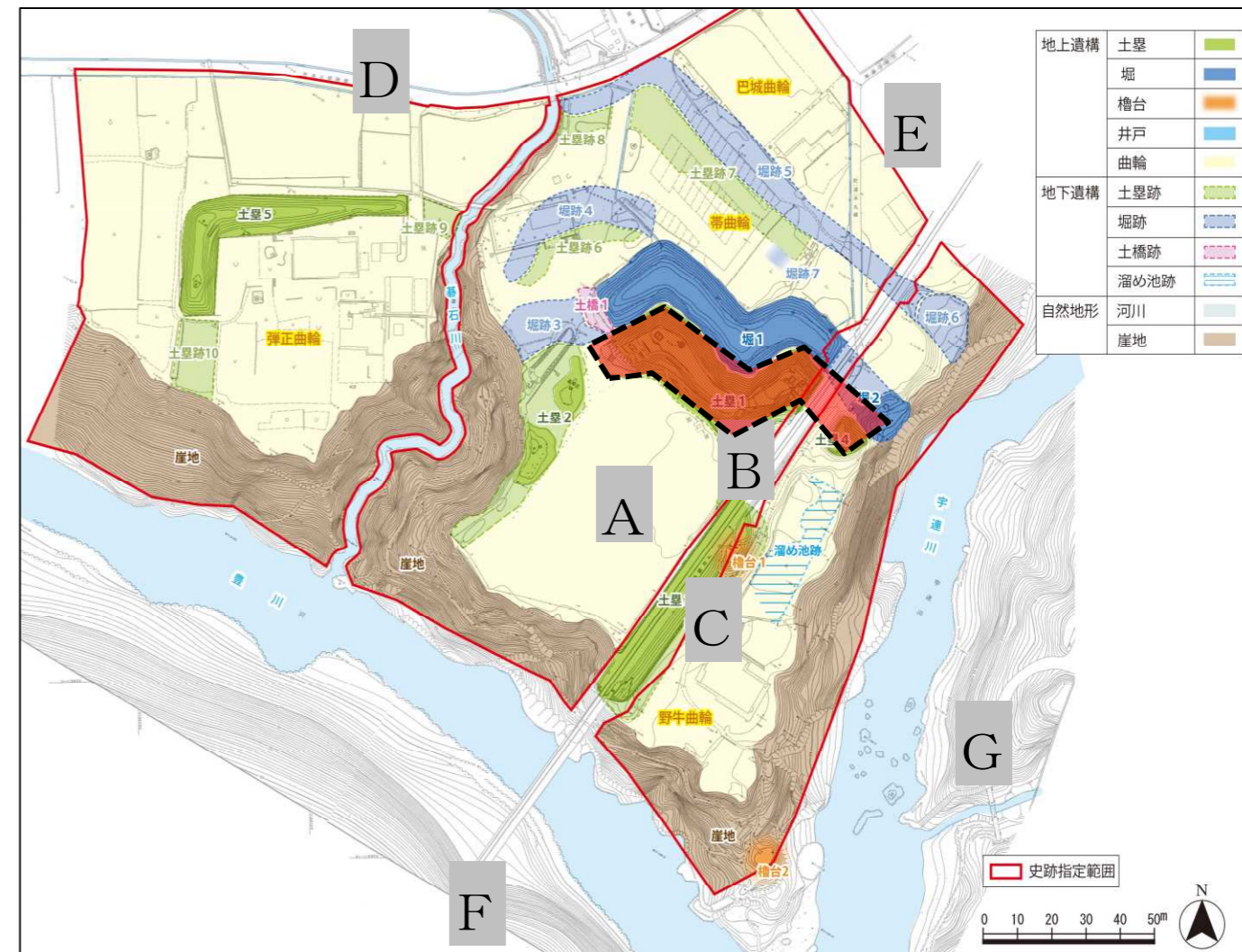
- ①織田信長→豊臣秀吉→徳川家康 ②織田信長・豊臣秀吉→徳川家康
③豊臣秀吉→織田信長→徳川家康 ④豊臣秀吉→織田信長・徳川家康

問 4 0 この戦いで、織田軍30,000人、徳川軍8,000人武田軍は15,000人でした。では、奥平軍は何人でしたか？

- ①100人 ②300人 ③500人 ④1,000人

問 4 1 この戦いで、武田軍15,000人のうち死者は「A」人といわれており、連合軍38,000人のうち、「B」人もの将士が亡くなったと伝えられています。
AとBに当てはまる数字を答えなさい。

- ①A:100人 B:100人 ②A:1,000人 B:500人
③A:5,000人 B:10,000人 ④A:10,000人 B:5,000人



上の図は長篠城跡を上から見たものです。次の問いに答えなさい。

問 4 2 「A」が示す場所の辺りは長篠城の中心地ともいえる重要な場所でした。昔、何と言われる場所だったのでしょうか。

- ①主郭(本丸) ②天守閣 ③二の丸 ④三の丸

問 4 3 Bが示す点線で囲まれた赤色の場所は土塁といい、現在もその姿が残されています。この土塁は大きく折れ曲がった形をしています。これは、土塁を上ってくる敵に対して、正面攻撃をするだけでなく、横側の側面からも弓矢や鉄砲などで攻撃することができるように工夫されて設計されたものです。この仕組みを何というのでしょうか。

- ①縦矢掛け ②横矢掛け ③斜め掛け ④ねじれ掛け

問 4 4 Cの位置は、「殿井」という場所を示しています。「殿井」とは何を表しているのでしょうか。

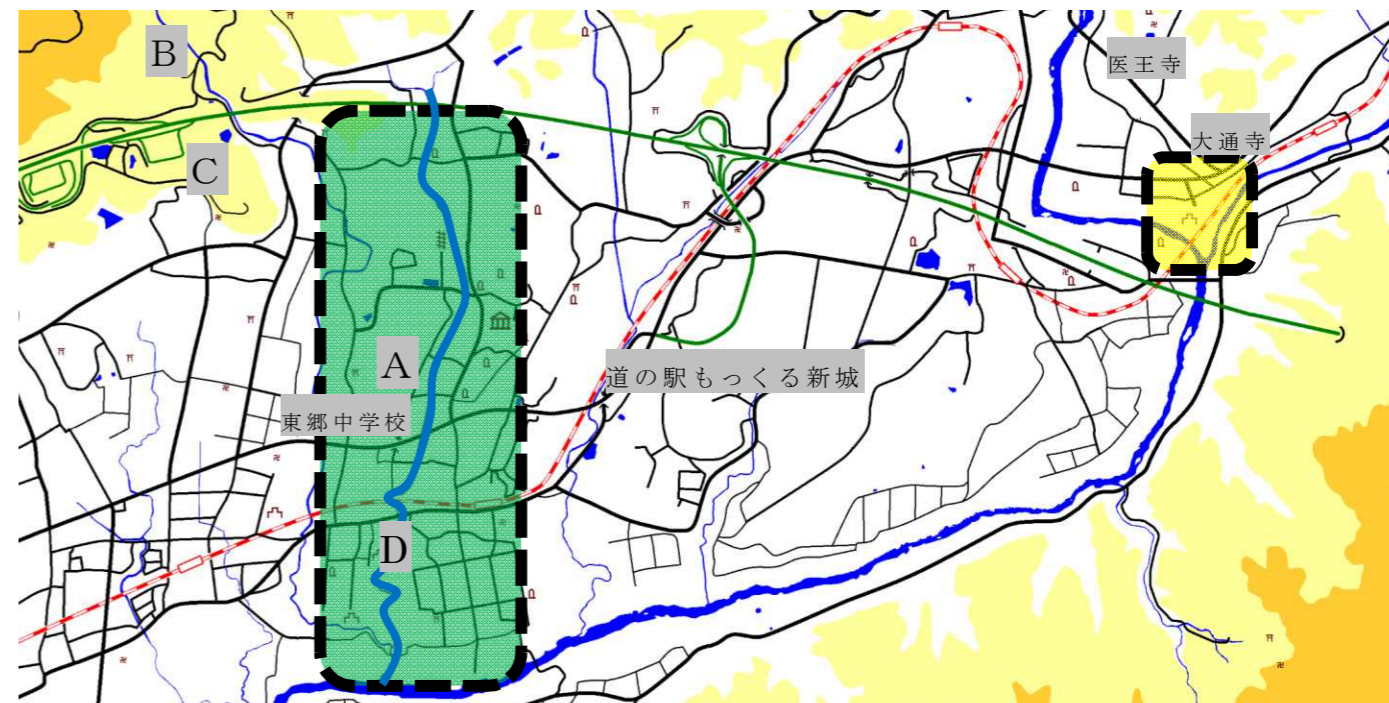
- ①井戸 ②厠(トイレ) ③兵糧庫 ④長篠城主の寝室

問 4 5 鳥居強右衛門は有海原の篠場野^{しのばの}という所で磔刑に処されました。
前ページの地図から磔刑で処されたおおよその方向として正しいものを選びなさい

- ① D ② E ③ F ④ G

問 4 6 新城市内には、鳥居強右衛門の名前を由来とした駅があります。
その駅名は何でしょうか

- ① 鳥居公駅 ② 鳥居駅 ③ 強右衛門駅 ④ 鳥居強右衛門駅



上の図は長篠・設楽原古戦場を表す地図です。次の問いに答えなさい。

問 4 7 点線枠に囲まれた黄色のエリアではどんな戦い・出来事があったのでしょうか。

- ① 設楽原決戦 ② 鷹ヶ巣山砦の奇襲戦 ③ 長篠城の攻防戦 ④ 雁峰山の狼煙上げ

問 4 8 点線枠に囲まれた緑色のエリアではどんな戦い・出来事があったのでしょうか。

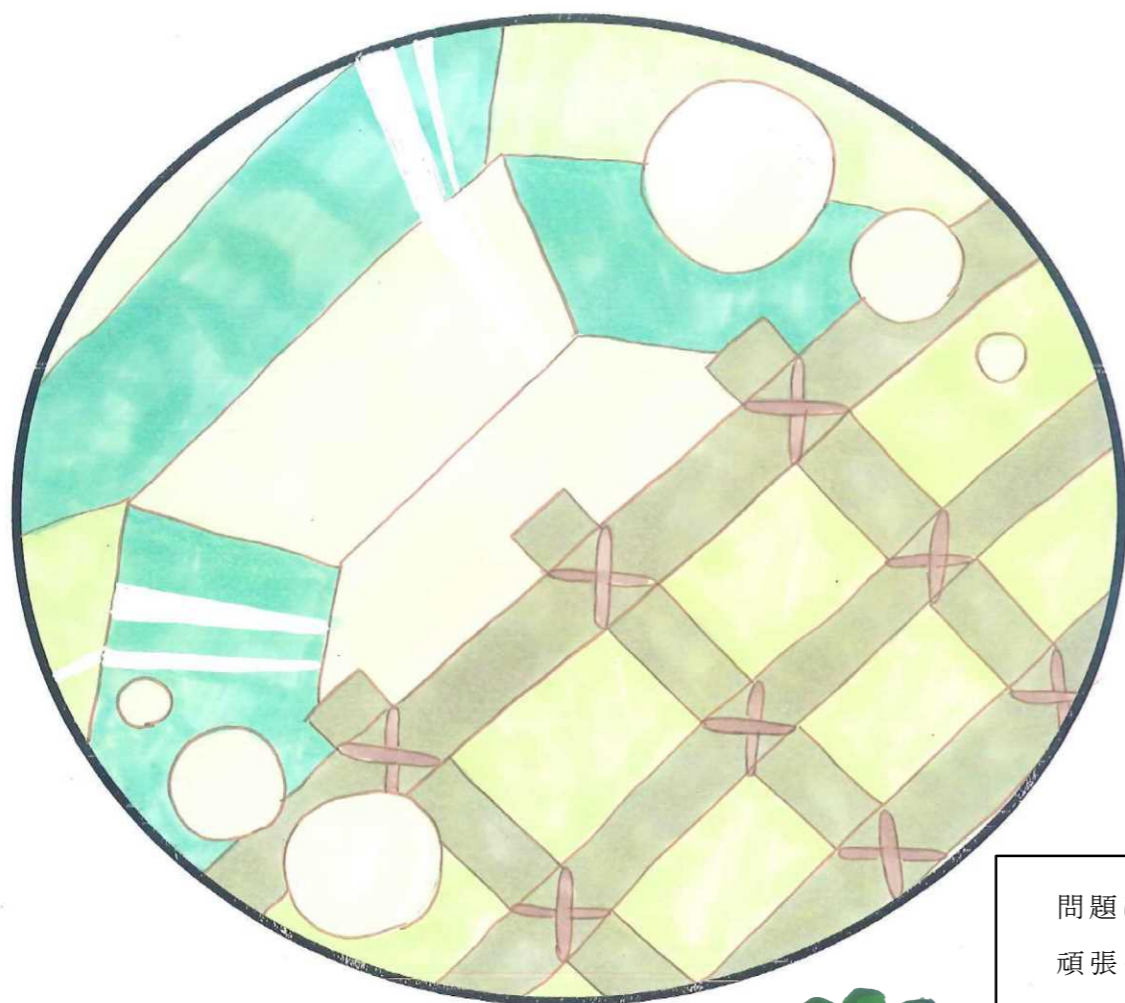
- ① 設楽原決戦 ② 鷹ヶ巣山砦の奇襲戦 ③ 長篠城の攻防戦 ④ 雁峰山の狼煙上げ

問 4 9 A、B、C に陣を置いていた武将は誰か、正しいものを選びなさい。

- ① A：武田勝頼 B：織田信長 C：徳川家康
② A：織田信長 B：徳川家康 C：豊臣秀吉
③ A：徳川家康 B：豊臣秀吉 C：織田信長
④ A：豊臣秀吉 B：徳川家康 C：織田信長

問 5 0 織田・徳川連合軍と武田軍の両軍を隔てる位置にある D の川の名称を答えなさい。

- ① 寒狭川 ② 宇連川 ③ 碁石川 ④ 連吾川



挿絵：新城市立東郷中学校美術部



問題はあと少し！
頑張ってください！

--- 問題は以上となります。 ---